

**Проверочная работа  
по ГЕОГРАФИИ**

**7 КЛАСС**

Дата: \_\_\_\_ \_\_\_\_ 20\_\_ г.

Вариант №: \_\_\_\_

Выполнена: ФИО \_\_\_\_\_

**Инструкция по выполнению работы**

На выполнение работы по географии даётся 45 минут. Работа включает в себя 8 заданий.

Ответы на задания запишите в поля ответов в тексте работы. В случае записи неверного ответа зачеркните его и запишите рядом новый.

При вычислениях разрешается использовать непрограммируемый калькулятор. Для выполнения задания 2 Вам потребуется карандаш.

При выполнении работы не разрешается пользоваться учебником, рабочими тетрадями, атласом и другим справочным материалом.

При необходимости можно пользоваться черновиком. Записи в черновике проверяться и оцениваться не будут.

Советуем выполнять задания в том порядке, в котором они даны. В целях экономии времени пропускайте задание, которое не удаётся выполнить сразу, и переходите к следующему. Если после выполнения всей работы у Вас останется время, то Вы сможете вернуться к пропущенным заданиям.

Вариант сгенерирован единой системой универсального образования на [esuo.ru](https://esuo.ru) и соответствует последним изменениям ВПР на **текущий учебный год**.

*Желаем успеха!*

---

*Заполняется учителем, экспертом или техническим специалистом*

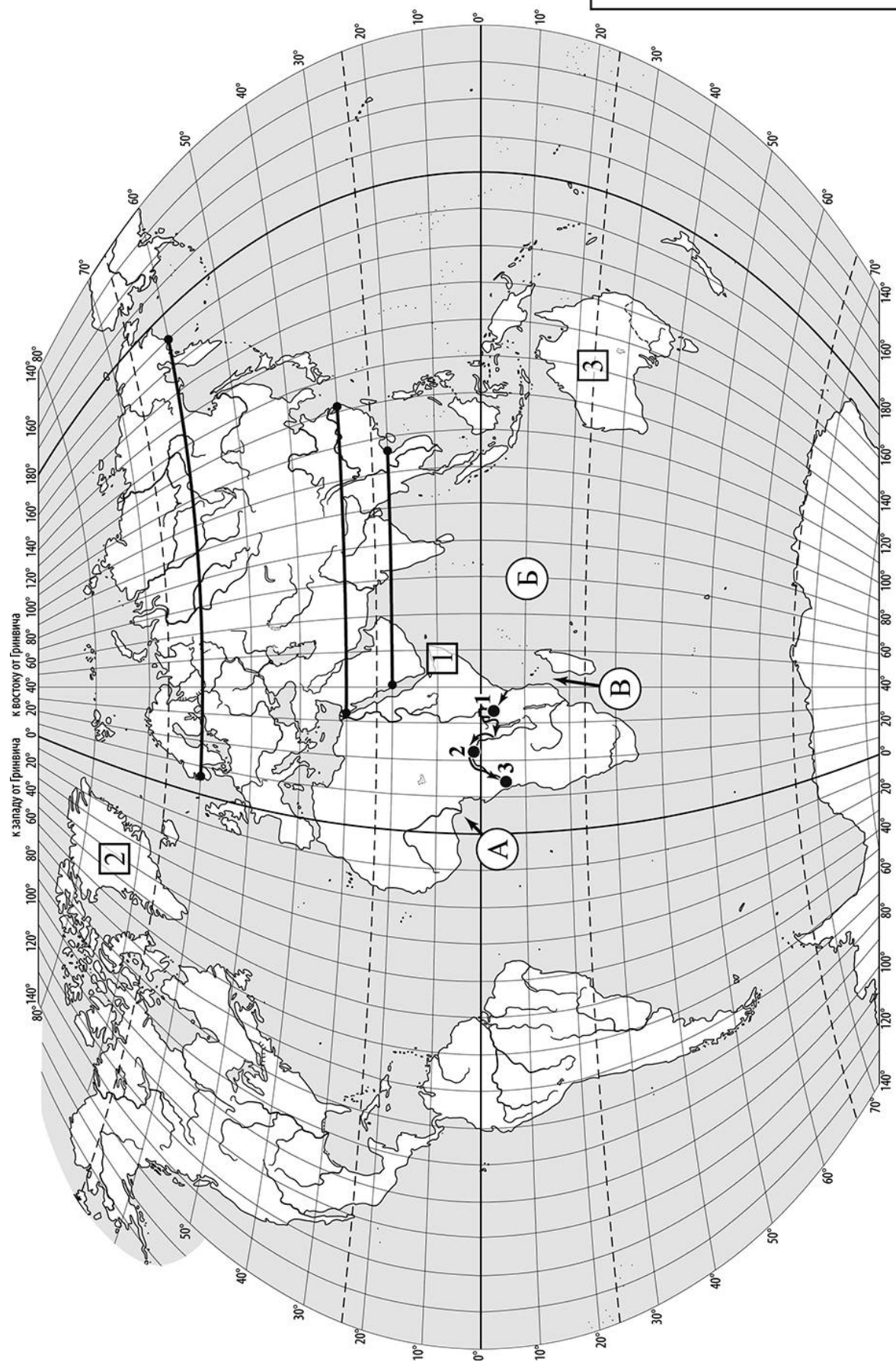
**Обратите внимание:** в случае, если какие-либо задания не могли быть выполнены целым классом по причинам, связанным с отсутствием соответствующей темы в реализуемой школой образовательной программе, в форме сбора результатов ВПР всем обучающимся класса за данное задание вместо балла выставляется значение «Тема не пройдена». В соответствующие ячейки таблицы заполняется н/п.

*Таблица для внесения баллов участника*

Номер задания	1.1	1.2	1.3	2.1	2.2	2.3	3.1	3.2	3.3	4.1	4.2	5.1	5.2	6.1	6.2	6.3
Баллы																

Номер задания	7.1	7.2	8.1	8.2	Сумма баллов	Отметка за работу
Баллы						

**1-3**



**Задания 1–3 выполняются с использованием карты мира, приведённой на странице 2.**

На карте мира, приведённой на странице 2, изображён маршрут экспедиции одного из путешественников, портреты которых представлены ниже. Рассмотрите карту и портреты путешественников и выполните задания.

1.1. Маршрут экспедиции кого из путешественников изображён на карте?



*Америго Веспуччи*



*Александр Гумбольдт*



*Генри Стэнли*

Ответ. \_\_\_\_\_

Подпишите на карте название материка, по которому проходил маршрут экспедиции.

1.2. На карте буквами обозначены объекты, определяющие географическое положение материка, по которому проходил маршрут экспедиции. Выберите из приведённого списка и запишите в таблицу названия этих объектов.

*Бенгальский залив, Средиземное море, Гвинейский залив,  
Мозамбикский пролив, Гибралтарский пролив, Индийский океан.*

А	Б	В

1.3. По линии маршрута экспедиции отмечены точки, расположенные на территории крупных географических объектов. Определите и запишите в ответе географические координаты **точки 2**.

Ответ. \_\_\_\_\_

На территории какого географического объекта расположена точка 2? Запишите в ответе его название.

Ответ. \_\_\_\_\_

2. На уроке географии Валентин построил профиль рельефа Евразии, представленный на рисунке 1. Используя рисунок и карту мира, приведённую на странице 2, выполните задания.

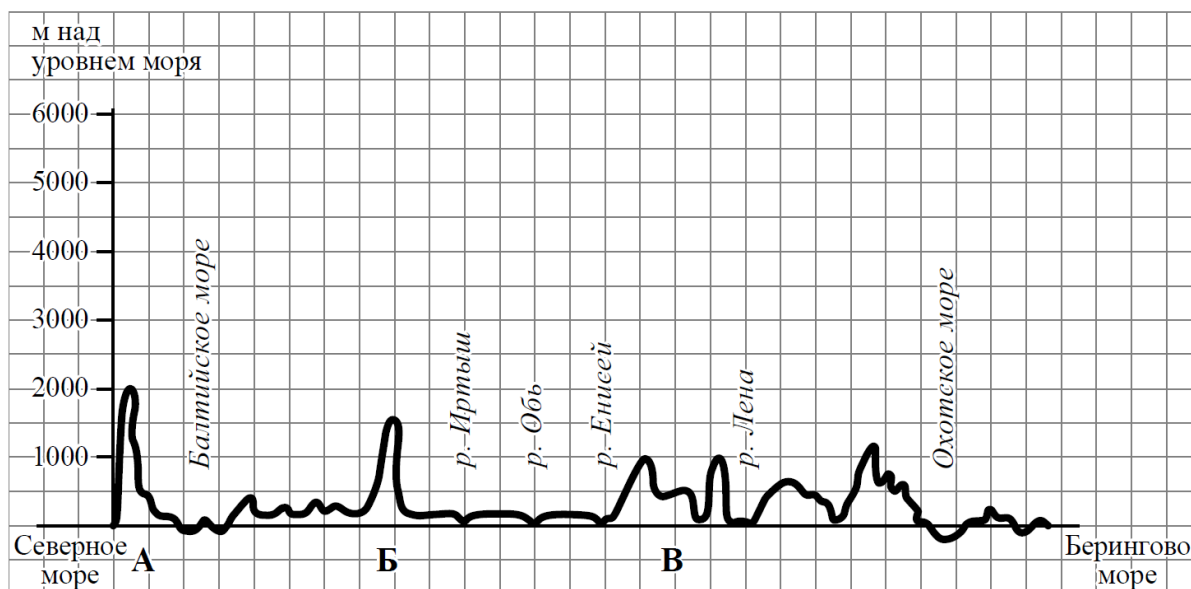


Рисунок 1

2.1. По какому из отрезков, проведённых на карте вдоль трёх параллелей, пересекающих материк Евразия, построен профиль рельефа, представленный на рисунке 1? Укажите в ответе значение параллели.

Ответ. \_\_\_\_\_

Определите по карте протяжённость материка Евразия в градусах по указанной Вами параллели.

Ответ. \_\_\_\_\_ °.

Рассчитайте протяжённость материка Евразия по указанной Вами параллели в километрах с помощью приведённой ниже таблицы. (Для расчёта воспользуйтесь калькулятором.)

Широта	0°	10°	20°	30°	40°	50°	60°	70°	80°	90°
Длина дуги параллели в 1°, км	111,3	109,6	104,6	96,5	85,4	71,7	55,8	38,2	19,4	0

Ответ. \_\_\_\_\_ км.

2.2. Какой крупной форме рельефа соответствует участок профиля, обозначенный на рисунке 1 буквой Б?

- 1) Среднесибирское плоскогорье
- 2) Уральские горы
- 3) плоскогорье Декан
- 4) горы Сихотэ-Алинь

Ответ. \_\_\_\_\_

Определите наибольшую абсолютную высоту территории, через которую проходит профиль на этом участке.

Ответ. \_\_\_\_\_ м.

2.3. На рисунке 2 представлены значки, которыми обозначаются месторождения полезных ископаемых на географических картах.

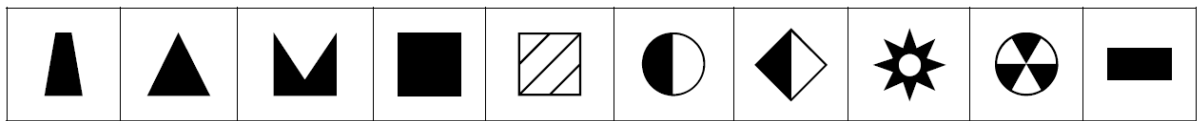


Рисунок 2

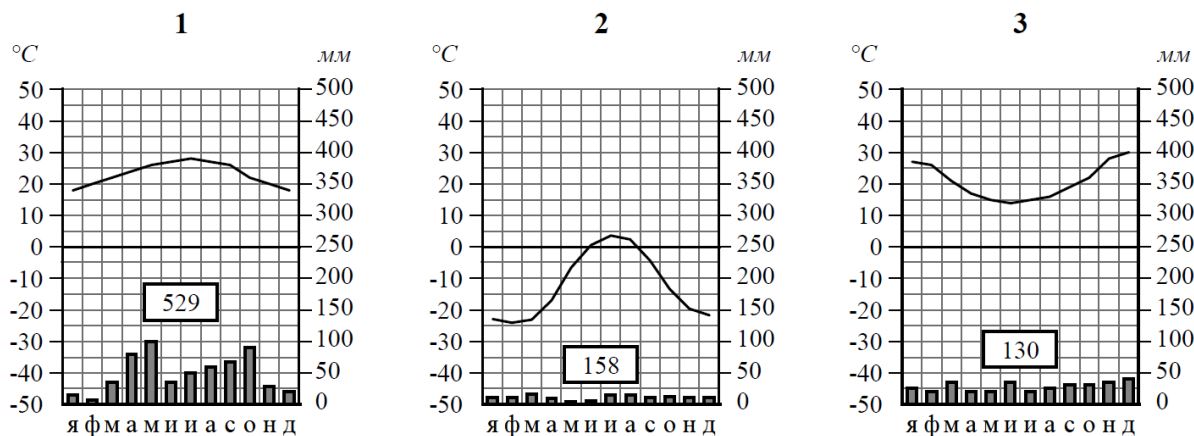
Внесите в таблицу значки, обозначающие месторождения полезных ископаемых, которые добывают на территории, обозначенной на профиле буквой Б.

Золото	Каменный уголь	Алмазы	Бурый уголь



3. Рассмотрите рисунки с изображением климатограмм, построенных по данным метеонаблюдений в разных частях Земли, и выполните задания.

3.1. На карте мира территории, для которых построены изображённые на рисунках климатограммы, показаны квадратами с соответствующими номерами климатограмм. Определите, какому климатическому поясу соответствует каждая климатограмма. Подпишите названия климатических поясов под соответствующими климатограммами.



3.2. Какой природной зоне мира соответствуют приведённые ниже характеристики? Укажите в ответе название этой природной зоны.

- 1) Занимает преимущественно равнинные территории.
- 2) Характерна смена сухого и влажного сезонов года.
- 3) Преобладает травянистый покров с травами, достигающими 3 м в высоту.
- 4) Древесная растительность представлена акациями, веерными пальмами, баобабами.
- 5) Обитают крупные травоядные животные: слоны, жирафы, зебры, антилопы, буйволы, носороги, бегемоты, а также хищники: гепарды, леопарды, шакалы, гиены.

Ответ. \_\_\_\_\_

Выберите климатограмму, соответствующую климатическим особенностям указанной Вами природной зоны. Запишите в ответе её номер.

Ответ. \_\_\_\_\_

3.3. По выбранной климатограмме заполните таблицу климатических показателей для указанной Вами природной зоны.

Средняя температура воздуха, °C		Годовая амплитуда температур, °C	Годовое количество осадков, мм	Месяц, на который приходится наибольшее количество осадков
в январе	в июле			

4

Рассмотрите схему природного процесса и выполните задания.



4.1. Какой природный процесс отображён на схеме?

Ответ. \_\_\_\_\_

4.2. Установите последовательность этапов указанного Вами природного процесса. Запишите в ответе **порядковые номера этапов**.

ЭТАПЫ:

- 1) Лава на земной поверхности охлаждается и затвердевает, образуя вулканическую породу.
- 2) В верхней мантии образуется очаг магмы.
- 3) При накоплении застывшей лавы формируется конусовидная гора с кратером на вершине, через который происходят последующие излияния лавы.
- 4) Под давлением магма поднимается по трещинам в земной коре и изливается на земную поверхность в виде лавы.
- 5) Раскалённая магма выделяет газы и пары воды, создавая огромное давление, обеспечивая продвижение магмы от очага к земной поверхности.

Ответ. \_\_\_\_\_



5

5.1. Установите соответствие между материками и их географическими особенностями.

### Материки

А – Южная Америка

Б – Австралия

### Географические особенности

- 1) В горах материка расположены самые высокогорные в мире города, селения и обрабатываемые поля.
- 2) На материке много пересыхающих рек и озёр.
- 3) На материке обитает много сумчатых животных, а также яйцекладущие млекопитающие – утконос и ехидна.
- 4) Около 40% территории материка занимает бассейн самой полноводной реки Земли.
- 5) К северу и северо-западу от материка расположен один из крупнейших архипелагов мира.
- 6) Вдоль западного побережья материка протягивается самый длинный в мире глубоководный жёлоб.

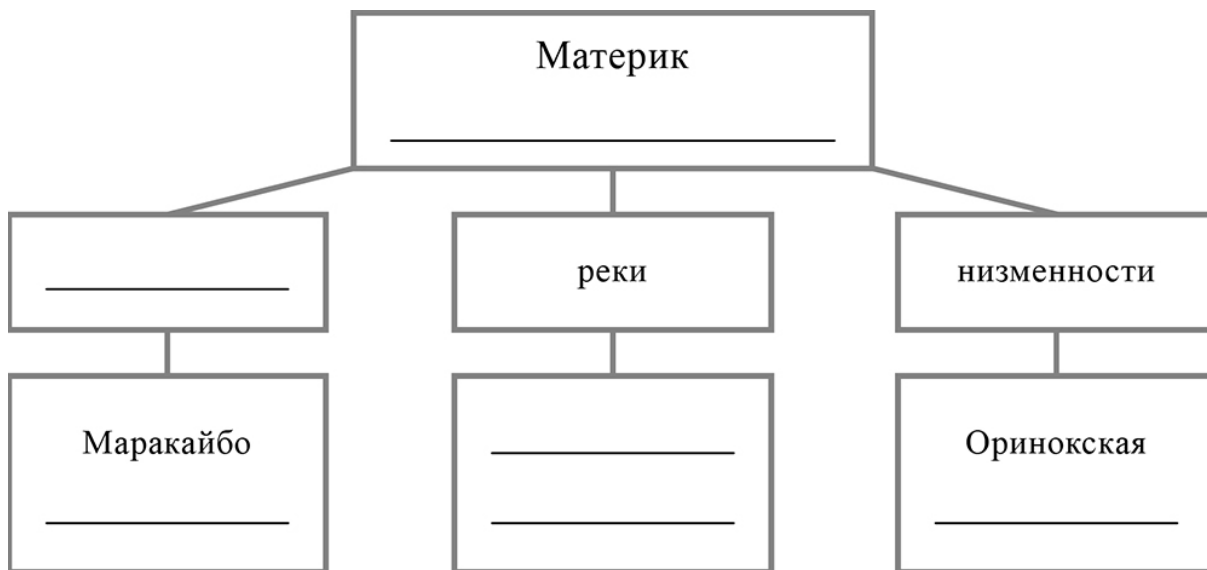
Запишите в таблицу выбранные цифры под буквами, которыми обозначены материки.

Ответ.

Материк	А	Б
Географические особенности		

5.2. Заполните блок-схему: для этого по указанным на схеме названиям географических объектов, определите и запишите название одного из двух материков, указанных в задании 5.1, а затем выберите из списка названия других географических объектов, расположенных на территории этого материка, запишите их в соответствующие ячейки на схеме и заполните оставшиеся пустые ячейки.

*Оранжевая, Ла-Платская, Аравийское, Сан-Франциску, Нил, Виктория, Титикака, Онтарио, Индо-Гангская, Парана, Ньяса, Декан.*






**Задание 6 выполняется с использованием политической карты мира.**

Аманд и Пьер познакомились на международном фестивале театров в Италии. Аманд живёт в столице Бразилии, а Пьер – в столице Франции. Подростки общаются через Интернет, и при общении им приходится учитывать разницу во времени между их городами.

6.1. На политической карте мира, приведённой на странице 11, выделите штриховкой страны, в которых живут подростки.


6.2. Вследствие вращения Земли время различается в разных её частях, и в Бразилии день наступает позже, чем во Франции. Часы на рисунках отображают время в городах, где живут подростки. Подпишите названия городов под соответствующими часами.



Время по Гринвичу  
12:00 (полдень)



30 октября  
13:00



30 октября  
09:00

6.3. Аманд отправил Пьеру электронное сообщение в 12:00 по местному времени.



Какое время будет отображаться в соответствующем окне на экране смартфона Пьера, когда он получит сообщение от Аманды?

Ответ. \_\_\_\_\_

7

Используя представленную ниже таблицу выполните задания.

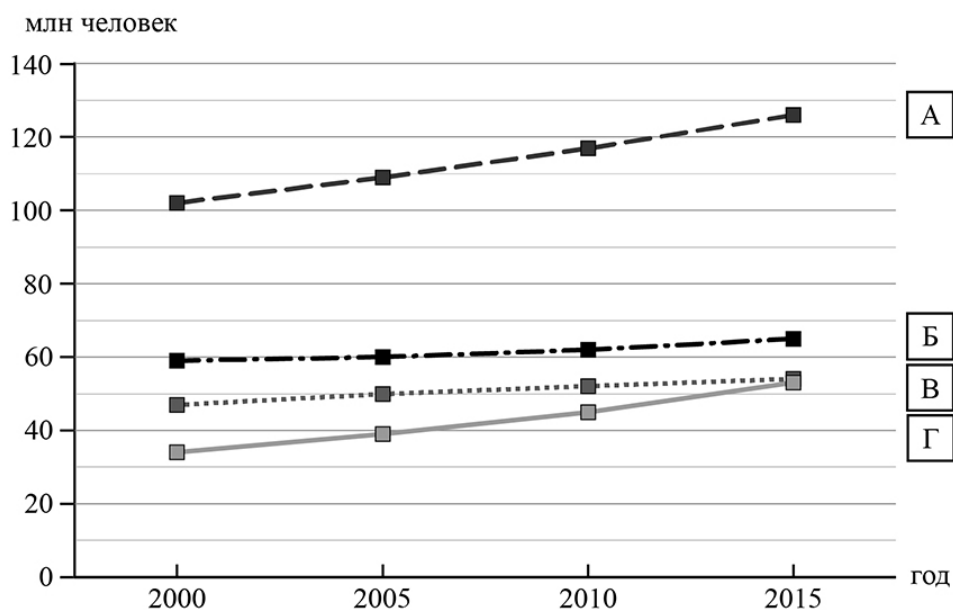
**Рост численности населения в странах мира, 2000-2015 гг.**

№	Страна	Численность населения в 2018 году, млн человек	Годы			
			2000	2005	2010	2015
1	Великобритания	66	59	60	62	65
2	Танзания	61	34	39	45	53
3	Мьянма	56	47	50	52	54
4	Мексика	131	102	109	117	126

7.1. Расположите страны в порядке **увеличения** численности населения в 2018 году, начиная со страны с самой маленькой численностью. Запишите в ответе последовательность **порядковых номеров** этих стран.

Ответ. \_\_\_\_\_

7.2. Рост численности населения какой страны, из приведённых в таблице, отражает график, обозначенный буквой Б? Запишите в ответе **название** страны.



Ответ. \_\_\_\_\_

8

Представьте, что Вы познакомились со своим сверстником, который живёт за границей, и он прислал Вам фотографии, сделанные в его стране.

8.1. Рассмотрите фотографии и ответьте на вопрос.



В какой стране живёт Ваш сверстник?

Ответ. \_\_\_\_\_

8.2. Рассмотрите представленные ниже рисунки. Выберите рисунок с контуром страны, в которой живёт Ваш сверстник. Запишите в ответе букву, которой обозначен этот рисунок.



А



Б



В

Ответ. \_\_\_\_\_

Какая пустыня, одна из крупнейших в мире, расположена на территории этой страны?

Ответ. \_\_\_\_\_